
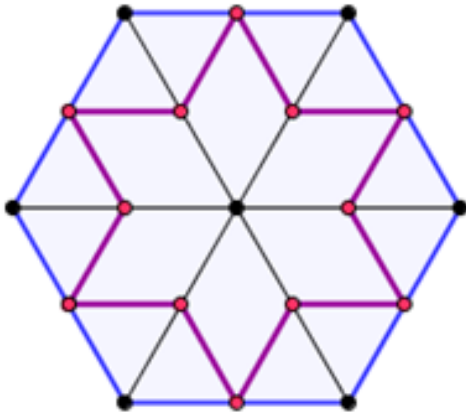


Verifica disegno tecnico - fila A

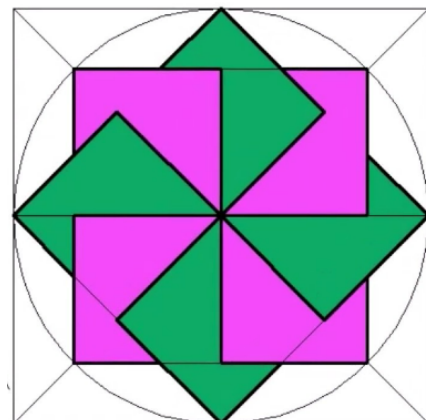
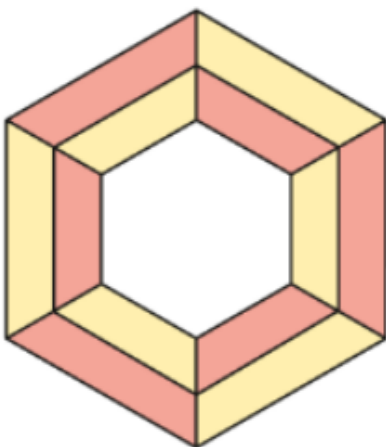
Disegna le due figure centrate (sia orizzontalmente che verticalmente) nei due quadranti (sinistro e destro). Il lato dell'esagono (dato il lato) è di 6 cm. Il lato del quadrato dato il lato (da eseguire con il compasso) è di 8 cm.



Colorare la seconda figura con 3 colori a piacere (ad altro contrasto ad es. giallo, rosso e azzurro)

Verifica disegno tecnico - fila B.

Disegna le due figure centrate (sia orizzontalmente che verticalmente) nei due quadranti (sinistro e destro). Il raggio dell'esagono (data la circonferenza) è di 6 cm. Il quadrato dato il lato (da eseguire con il compasso) ha il lato di 8 cm.



Colorare la seconda figura con 3 colori a piacere (ad altro contrasto ad es. giallo, rosso e azzurro)